

Prénom :

Date :

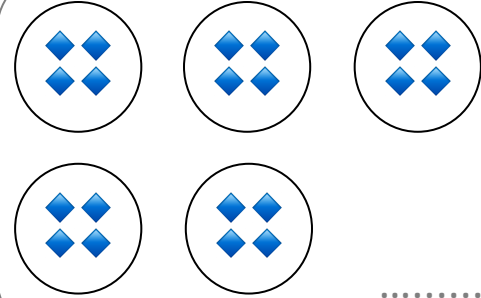
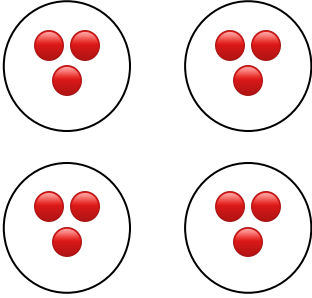
La multiplication

CALCUL


4

Je comprends le sens de la multiplication.


1. **Ecris** la multiplication correspondant au schéma :



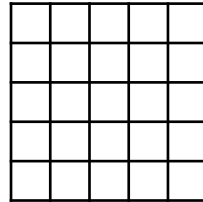
2. **Colorie** le nombre de carrés de chocolat correspondants aux multiplications :




2×4



5×2



3×5



5×5

3. **Résous** ces problèmes :

Théo a 4 billets de 5 €. Combien a-t-il d'argent ?

.....

Anne a acheté un paquet de 8 billes et un autre de 5 billes.
Combien a-t-elle de billes ?

.....

Prénom :

Date :

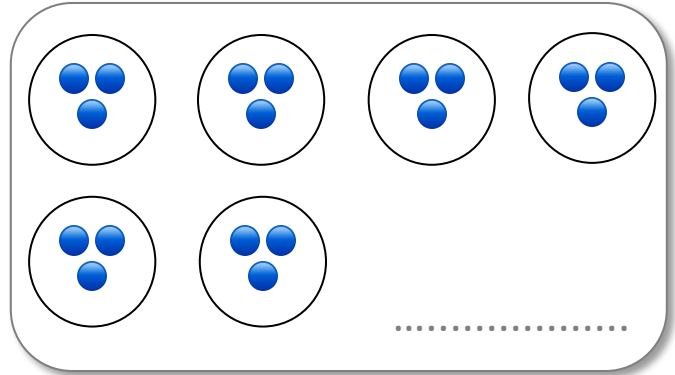
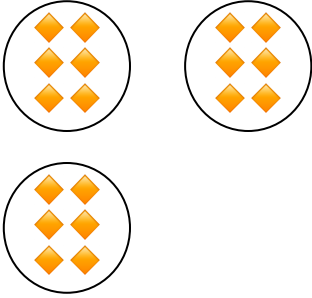
La multiplication 2

CALCUL


4

Je comprends le sens de la multiplication.


1. **Ecris** la multiplication correspondant au schéma :



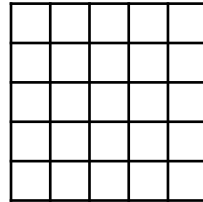
2. **Colorie** le nombre de carrés de chocolat correspondants aux multiplications :




3×4



4×2



2×5



3×5

3. **Résous** ces problèmes :

Léa a 6 cartes dans sa poche et 5 dans son sac.
Combien a-t-elle de cartes ?

.....

Léo a 5 paquets de 6 cartes.
Combien a-t-il de cartes ?

.....